

Gəmi aşıpazı

1. Şəkildə hansı qrupa aid nəqliyyat gəmisi təsvir olunmuşdur?



Düzgün cavab: universal quru yük gəmisi

2. Şəkildə hansı qrupa aid nəqliyyat gəmisi təsvir olunmuşdur?



Düzgün cavab: balker gəmisi

3. Şəkildə hansı qrupa aid nəqliyyat gəmisi təsvir olunmuşdur?



Düzgün cavab: meşə materialları daşıyan gəmi

4. Şəkildə hansı qrupa aid nəqliyyat gəmisi təsvir olunmuşdur?



Düzgün cavab: refrijerator gəmisi

5. Şəkildə hansı qrupa aid nəqliyyat gəmisi təsvir olunmuşdur?



Düzgün cavab: konteyner gəmisi

6. Şəkildə hansı qrupa aid nəqliyyat gəmisi təsvir olunmuşdur?



Düzgün cavab: rolker gəmisi

7. Şəkildə hansı qrupa aid nəqliyyat gəmisi təsvir olunmuşdur?



Düzgün cavab: maye yük gəmisi (tanker)

8. Şəkildə hansı qrupa aid nəqliyyat gəmisi təsvir olunmuşdur?



Düzgün cavab: köməkçi gəmisi

9. Şəkildə gördüyünüz qutuda nə saxlanılır?



Düzgün cavab: yanğınsöndürmə şlanqı

10. Dənizdə çirklənmənin qarşısının alınması haqqında Beynəlxalq Konvensiya necə adlanır?

Düzgün cavab: MARPOL-73/78

11. Gəmi sənişin xidmətinə kim rəhbərlik edir?

Düzgün cavab: kapitanın sənişin üzrə köməkçisi

12. SOLAS-74 BK-nın tələblərinə görə hansı gəmilər sənişin gəmisi adlanır?

Düzgün cavab: 12 nəfərdən artıq sənişin yeri olan və kiçik miqdarda yüklərin daşınması üçün nəzərdə tutulan hər hansı gəmilərə

13. Dövlət Bayrağı gəmidə istər dayanacaqda, istərsə də hərəkətdə olan zaman hər gün:

Düzgün cavab: saat 8 – də qaldırılır və günəş batanda endirilir

14. “Ümumgəmi həyəcan siqnalı” necə verilir?

Düzgün cavab: yeddi və ondan artıq qısa və bir uzun yüksək səsli zəng siqnalı

15. “Suda adam siqnalı” necə verilir?

Düzgün cavab: üç uzun yüksək səsli zəng siqnalı

16. “Qayıq həyəcan siqnalı” necə verilir?

Düzgün cavab: yeddi və ondan artıq qısa və bir uzun yüksək səsli zəng siqnalı. (3-4 dəfə təkrar olunur)

17. Aşağıdakı vasitələrdən hansılar fərdi xilasedici vasitələrə aiddir?



Düzgün cavab: 1. 2

18. Aşağıdakı vasitələrdən hansılar kollektiv xilasedici vasitələrə aiddir?



Düzgün cavab: 4

19. Xilasedici dairə nə üçündür?

Düzgün cavab: adamı su üzərində saxlamaq üçün

20. Xilasedici dairənin çəkisi ən azı nə qədər olmalıdır?

Düzgün cavab: 2.5 kq

21. Xilasedici vasitələr neçə yerə bölünür?

Düzgün cavab: iki yerə

22. Xilasedici dairənin daxili diametri nə qədər olmalıdır?

Düzgün cavab: 400 mm

23. Xilasedici dairənin xarici diametri nə qədər olmalıdır?

Düzgün cavab: 800 mm

24. Xilasedici dairə hansı qrup xilasedici vasitələrə aiddir?

Düzgün cavab: fərdi xilasedici vasitələrə

25. Xilasedici canlıq nə üçündür?

Düzgün cavab: adamı su üzərində təhlükəsiz vəziyyətdə saxlamaq üçün

26. "Pirotexniki siqnal vasitələri" nə aşağıdakılardan hansılar aiddir?

Düzgün cavab: falşfeyer

27. "Pirotexniki siqnal vasitələri" nə aşağıdakılardan hansılar aiddir?

Düzgün cavab: paraşütlü raket

28. Tankerlər hansı yük növlərinin daşınması üçün tikilən ixtisaslaşmış gəmilərdir?

Düzgün cavab: maye yüklər

29. Fövqəladə hallara aid deyil?

Düzgün cavab: gəminin səfərə çıxması

30. Fövqəladə hallara aiddir?

Düzgün cavab: gəmidə yanğın baş verməsi

31. Ümumi gəmi həyəcan siqnalı hansı zənglə verilir?

Düzgün cavab: yeddi qısa və bir uzun müddətli siqnal

32. Xilasedici salın üzərində yazılan «12 person» nə deməkdir?

Düzgün cavab: sal 12 nəfərlikdir

33. BDT (IMO) simvolu nəyi göstərir?



Düzgün cavab: toplanma yeri

34. BDT (IMO) simvolu nəyi göstərir?



Düzgün cavab: xilasedici qayıq

35. BDT (IMO) simvolu nəyi göstərir?




Düzgün cavab: xilasedici sal

36. BDT (IMO) simvolu nəyi göstərir?




Düzgün cavab: şormtrap

37. BDT (IMO) simvolu nəyi göstərir?



Düzgün cavab: çıxış yolu

38. BDT (IMO) simvolu nəyi göstərir?



Düzgün cavab: hidrokombinezon

39. BDT (IMO) simvolu nəyi göstərir?



Düzgün cavab: siqnal raketi

40. BDT (IMO) simvolu nəyi göstərir?



Düzgün cavab: qəza (ehtiyat) çıxış yolu

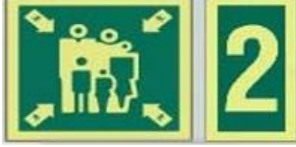
41. "Deck" anlayışının Azərbaycan dilində tərcüməsi hansı mənanı verir?

Düzgün cavab: göyertə

42. "Brigde" anlayışının Azərbaycan dilində tərcüməsi hansı mənanı verir?

Düzgün cavab: kapitan körpüsü

43. Şəkilə göstərilən BDT (IMO) simvolunun mənası nədir?



Düzgün cavab: həyəcan signalı zamanı 2 sayılı toplantı yeri

44. Şəkilə hansı növ gəmi göstərilib?



Düzgün cavab: maye yük daşıyan

45. Dənizdə insan həyatının mühafizəsinə dair Beynəlxalq Konvensiyanın tələblərinə əsasən gəmi heyətinin sayı 15 nəfərə qədər olduğu halda gəmi heyəti toplantı yerinə hansı müddət ərzində yığışmalıdır ?

Düzgün cavab: 3 dəqiqədən gec olmayaraq

46. Dənizdə insan həyatının mühafizəsinə dair Beynəlxalq Konvensiyanın tələblərinə əsasən gəmi heyətinin sayı 15 nəfərdən 50 nəfərə qədər olduğu halda gəmi heyəti toplantı yerinə hansı müddət ərzində yığışmalıdır ?

Düzgün cavab: 4 dəqiqədən gec olmayaraq

47. Dənizdə insan həyatının mühafizəsinə dair Beynəlxalq Konvensiyanın tələblərinə əsasən gəmi heyətinin sayı 50 nəfərdən çox olduğu halda gəmi heyəti toplantı yerinə hansı müddət ərzində yığışmalıdır ?

Düzgün cavab: 10 dəqiqədən gec olmayaraq

48. Dənizdə insan həyatının mühafizəsinə dair Beynəlxalq Konvensiyanın tələblərinə əsasən sərnişin daşıyan gəmiləri tərk edildikdə, yaxşı hava şəraitində insanlar kollektiv xilasedici vasitəyə neçə dəqiqəyə minməlidirlər?

Düzgün cavab: 30 dəqiqədən gec olmayaraq

49. Dənizdə insan həyatının mühafizəsinə dair Beynəlxalq Konvensiyanın tələblərinə əsasən yük gəmiləri tərk edildikdə, yaxşı hava şəraitində insanlar kollektiv xilasedici vasitəyə neçə dəqiqəyə minməlidirlər ?

Düzgün cavab: 10 dəqiqədən gec olmayaraq

50. Gəmidə verilən səhər və günorta yeməkləri kifayət qədər kolorili olmalıdır mı?

Düzgün cavab: Bəli gəmidə səhər və günorta yeməkləri kifayət qədər kolorili olmalıdır

51. Ərzaq məhsullarının kaloriliyinin ölçü vahidini qeyd edin?

Düzgün cavab: kkal

52. "C" vitamininin əsas mənbəyi nədir?

Düzgün cavab: Tərəvəzlər, meyvə və giləmeyvələr

53. Gəmi heyətinin sayının neçə nəfər olduğu təqdirdə gəmidə tam ştat üzrə peşəkar aşpazın olmamasına icazə verilir?

Düzgün cavab: Gəmi heyətinin ştat üzrə 10 nəfərdən az olduğu təqdirdə

54. Hansı minimal yaş həddinə çatmış şəxslərin gəmidə aşpaz qismində və ya istənilən əmək fəaliyyətinə işə cəlb edilməsinə icazə verilir?

Düzgün cavab: Yaşı 18-dən az olmayan şəxslərin gəmidə aşpaz qismində və ya istənilən əmək fəaliyyətinə işə cəlb edilməsinə icazə verilir

55. Hansı Beynəlxalq Konvensiyaya əsasən gəmi aşpazlarına peşəkarlıq haqqında şəhadətnamə verilir?

Düzgün cavab: Beynəlxalq Əmək Təşkilatının 69 sayılı Beynəlxalq Konvensiyasına əsasən

56. Ətdə zülalların miqdarını qeyd edin

Düzgün cavab: 11-20 %

57. Balıqda zülalların miqdarını qeyd edin:

Düzgün cavab: 14-23 %

58. Süddə zülalların miqdarını qeyd edin

Düzgün cavab: 1.5-3.0 %

59. Çörəkdə zülalların miqdarını qeyd edin:

Düzgün cavab: 5.0-8.0 %

60. Piy nədir?

Düzgün cavab: Tərkibində kömür, su, hidrogen olan üç atomlu spirt birləşməsindən, qliselinə və piy turşularından ibarət olan çətin birləşməyə piy deyilir

61. Kambuzun ölçüləri hansı amilləri nəzərə almaq ilə müəyyən edilir?

Düzgün cavab: Kambuzda işləmək üçün istifadə olunan avadanlıqların qabarit ölçüləri ilə

62. İnsan bədəninin çəkisinin hər bir kiloqramı üçün neçə qram su tələb olunur?

Düzgün cavab: Bir sutka ərzində 1 kq insan bədəninin çəkisi üçün 40 qram su tələb olunur

63. Meyvə və tərəvəzlərin tərkibi neçə % sudan ibarətdir?

Düzgün cavab: 65-95 %

64. Ərzaqların kaloriliyi və ya enerji dəyəri nəyə deyilir?

Düzgün cavab: Qida ərzaqlarının tərkibində olan piylərin, zülalların karbohidratların oksidləşməsi zamanı yaranan və orqanizmin fizioloji funksiyalarına sərf edilən enerji miqdarına ərzaqların enerji dəyəri və ya kaloriliyi deyilir

65. Su və mineral maddələr enerji dəyərində malikdirlərmi?

Düzgün cavab: xeyr

65. İnsan bir sutka ərzində təxminən nə qədər kalori itirir?

Düzgün cavab: 2600-4300

66. Soyuducularda 1 aydan 3 aya qədər müddət ərzində ətin və ət məhsullarının saxlanması temperaturunu (°S) qeyd edin?

Düzgün cavab: -10°C

67. Soyuducularda 1 aydan 3 aya qədər müddət ərzində balıq və balıq məhsullarının saxlanması temperaturunu (°S) qeyd edin?

Düzgün cavab: -10°C

68. Soyuducularda 1 aya qədər müddət ərzində tərəvəzin saxlanması temperaturunu (°S) qeyd edin?

Düzgün cavab: +4°C

69. Heyət üzvlərinin sağlamlığının qorunması məqsədi ilə qida məhsullarının soyuducularda uzun müddət saxlanması üçün dondurulma prosesinin temperaturunu (°S) qeyd edin:

Düzgün cavab: -18°C

70. Tərəvəzlər gəmiyə hansı vəziyyətdə gətirilməlidirlər?

Düzgün cavab: Soyudulmuş, quru, xüsusi qablarda (setka, ağac və ya karton qablarda) qablaşdırılmış vəziyyətdə

71. Gəmiyə gətirilən ərzaq məhsulları hansı Beynəlxalq Konvensiyanın tələblərinə və standartlarına cavab verməlidirlər?

Düzgün cavab: Dənizçilik sahəsində əməyə dair Beynəlxalq Konvensiyanın (MLC-2006) tələblərinə və standartlarına

72. İnsan həyatı üçün elektrik təhlükəsizliyi neçə voltdur?

Düzgün cavab: 12V-dan aşağı

73. "Gəmi aşpazı" ingilis dilində necə tərcümə olunur?

Düzgün cavab: cook

74. Çiy əti doğramaq üçün rəngli taxta növünü İngilis dilində necə tərcümə olunur?

Düzgün cavab: red

75. Sarımsaq sözü ingilis dilində necə tərcümə olunur?

Düzgün cavab: garlic

76. Soğan sözü ingilis dilində necə tərcümə olunur?

Düzgün cavab: onion

77. Donuz əti (yalnız hissə verilmiş donuz əti) sözü ingilis dilində necə tərcümə olunur?

Düzgün cavab: pork

78. Kambuzdakı sobası sözü ingilis dilində necə tərcümə olunur?

Düzgün cavab: stove

79. Mikrodalğalı soba sözü ingilis dilində necə tərcümə olunur?

Düzgün cavab: microwave

80. Fry sözü Azərbaycan dilində necə tərcümə olunur?

Düzgün cavab: qızartmaq

81. Tərəvəz sözü ingilis dilində necə tərcümə olunur?

Düzgün cavab: vegetable

82. Toyuğun döş əti sözü ingilis dilində necə tərcümə olunur?

Düzgün cavab: chicken brest

83. Gəmi sözü ingilis dilində necə tərcümə olunur?

Düzgün cavab: vessel

93. Elektrik cərəyanı ilə zədələnmiş zərərçəkənə ilk tibbi yardım zamanı nə etmək lazımdır?

Düzgün cavab: cərəyan xəttlərini şəbəkədən ayırmaq

94. Pillers nəyə deyilir?

Düzgün cavab: vertical və ya dairəvi göyərtə altındaki tək və ayrı dayağa deyilir

95. Forşteven nəyə deyilir?

Düzgün cavab: gəminin burnundan kilə qədər olan vertical və ya yarım dairəvi tirə deyilir

96. Axterşteven nəyə deyilir?

Düzgün cavab: gəminin arxa hissəsindən kilə qədər olan vertical və ya yarım dairəvi tirə deyilir

97. Dəniz xəstəliyi nədir?

Düzgün cavab: ürək bulanması

98. Gəmini tərk etmə barədə verilən siqnal hansıdır?

Düzgün cavab: yeddi qısa və bir uzun

99. Odsöndürülənlər neçə metr hündürlükdən asılmalıdır?

Düzgün cavab: 1 m

100. Xarici qanaxmanın hansı növü qorxuludur?

Düzgün cavab: arterial

101. Desert tərəvəzlər qrupuna aiddir:

Düzgün cavab: ravənd

102. İctimai iaşə müəssisələrinə daxil olan balıqlarda neçə faiz duz olur?

Düzgün cavab: 11-22 %

103. Soyumuş ətin ilk emalının sonuncu prosesinə aiddir?

Düzgün cavab: yarımfabrikatların hazırlanması

104. Duzlu ətin tərkibində neçə faiz duz olur?

Düzgün cavab: 9-14 %

105. Ətin bel hissəsinin qabırğasız yerinə nə deyilir?

Düzgün cavab: böyrək sahəsi

106. Kulinar bölgüsündə mal cəmdəyi ad etibarını ilə neçə hissəyə bölünür?

Düzgün cavab: 13

107. Yeraltı göbələklər qrupuna aiddir?

Düzgün cavab: ağ trufel

108. 1 kq yarma bişirmək üçün neçə litr su sərf olunur?

Düzgün cavab: 2.5-3 litr

109. Meyvəkimilər qrupuna hansı aid deyil?

Düzgün cavab: soğan

110. Göbələk bulyonu üçün hansı göbələkdən istifadə olunur?

Düzgün cavab: quru

111. 1 kq quru göbələyə neçə litr su əlavə olunur?

Düzgün cavab: 7

112. 1 kq quru göbələkdən neçə litr bulyon alınır?

Düzgün cavab: 5

113. Tərəvəzlərin yaşıl rəngdə olması onun tərkibindəki hansı pigmentdən asılıdır?

Düzgün cavab: xlorofil

114. İsti emalın üsulları hansılardır?

Düzgün cavab: bişirmək, qovurmaq

115. Makaronun bişmə müddəti neçə dəqiqədir?

Düzgün cavab: 30-40

116. Tərəvəzlərin bol yağda qızardılması üsulu necə adlanır?

Düzgün cavab: fri

117. Aşağıda göstərilən balıqlardan hansılar pullu balıqlardır?

Düzgün cavab: sazan, kütüm

118. Hansı balıqlardan kabab hazırlanır?

Düzgün cavab: nərə cinsli

119. Mal əti neçə sorta ayrılır?

Düzgün cavab: 4

120. Can ətindən hansı yeməklərin hazırlanmasında istifadə olunur?

Düzgün cavab: bifşteks, langet

121. Yarpaq dolmasının hazırlanmasının hər payına neçə qram ət və quyruq götürülür?

Düzgün cavab: 163 qr ət və 20 qr quyruq

122. Əti suda bişirən zaman öz çəkisinin neçə faizini itirir?

Düzgün cavab: 40 %

123. Balıq ləvəngisinin hazırlanması üçün ərzaqlar hansılardır?

Düzgün cavab: qırmızı soğan, turşu, qoz, duz, istiot

124. Qoyun ətindən kotletin hazırlanması üçün ərzaqlar hansılardır?

Düzgün cavab: qoyun əti, soğan, çörək, duz, istiot

125. Paytaxt salatının hazırlanması üçün ərzaqlar hansılardır?

Düzgün cavab: toyuq filesi, kartof, kəmə, xıyar, duz, istiot, mayonez